

УДК 373
ББК 74.100.5
К60

Колесникова Е.В.

К60 Диагностика математических способностей детей 6—7 лет. — М.: ТЦ Сфера, 2020. — 48 с. (Математические ступеньки).

ISBN 978-5-9949-2572-0

Книга соответствует федеральному государственному образовательному стандарту дошкольного образования. В ней представлены планируемые результаты освоения программы «Математические ступеньки».

Методы, используемые для диагностики, позволяют получить необходимый объем информации в оптимальные сроки.

Задания, предложенные в книге, призваны оценить математическую подготовку ребенка к школе и своевременно определить и восполнить пробелы в его математическом развитии.

Рекомендуется широкому кругу специалистов, работающих в дошкольных образовательных учреждениях, родителям при подготовке детей к школе.

© ООО «ТЦ Сфера», оформление, иллюстрации, 2020
© Колесникова Е.В., текст, 2020

Учебное издание

Колесникова Елена Владимировна

ДИАГНОСТИКА МАТЕМАТИЧЕСКИХ СПОСОБНОСТЕЙ ДЕТЕЙ 6—7 ЛЕТ

Главный редактор Т.В. Цветкова

Выпускающий редактор А.А. Пушкина

Редактор А.В. Никитинская

Художественный редактор М.А. Владимирская

Художник Е.Н. Федорченко

Корректор Л.Б. Успенская

Компьютерная верстка Е.Ю. Бартковская

Декларация о соответствии ЕАЭС № RU Д-РУ.АД53.В.09876 с 05.07.2018 по 04.07.2023

Подписано в печать 01.04.20. Формат 84x108 $\frac{1}{16}$. Гарнитура Школьная. Печать офсетная. Усл. печ. л. 5,04. Тираж 5000 экз.
Заказ №

Издательство «Творческий Центр СФЕРА»

Адрес: 129226, Москва, ул. Сельскохозяйственная, д. 18, к. 3.

Тел.: (495) 656-72-05, 656-75-05

E-mail: sfera@tc-sfera.ru

Сайты: www.tc-sfera.ru, www.sfera-podpiska.ru

Интернет-магазин: www.sfera-book.ru



0+ ЕАЭС

ISBN 978-5-9949-2572-0



9 785994 925720




Соответствует
ФГОС ДО



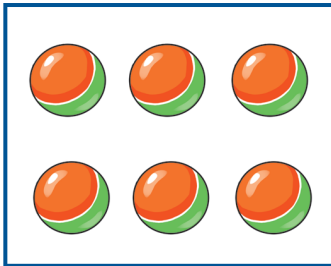




Е.В. Колесникова

ДИАГНОСТИКА МАТЕМАТИЧЕСКИХ СПОСОБНОСТЕЙ

детей **6–7** лет







 Соедини прямоугольники с одинаковым количеством предметов.




? Прямоугольники с какими предметами ты соединил(а)? (Прямоугольники, в которых три кораблика и три груши; в которых пять клубков и пять кубиков.)

 Обведи птичек, которых по пять.




? Каких птичек ты обвел(а) и почему? (Утят и цыплят, потому что их по пять.)

 Обведи фигуры с самым маленьким количеством углов.



? Какие фигуры ты обвел(а) и почему? *(Треугольники, потому что у них по три угла.)*

 Раскрась геометрические фигуры, у которых нет углов.




? Какие геометрические фигуры ты раскрасил(а) и почему? *(Круг и овалы, потому что у них нет углов.)*

 Соедини чашки с подходящими по размеру блюдцами.









? Какую чашку с каким блюдцем ты соединил(а)? (Большую чашку с большим блюдцем, чашку поменьше с блюдцем поменьше.) Далее аналогично.

 Соедини мишек одинакового размера.







? Каких мишек ты соединил(а)? (Большого мишку с большим, мишку поменьше с мишкой поменьше.) Далее аналогично.

 Раскрась машины, которые едут направо, красным карандашом, а те, что едут налево, — синим.



? Какие машины ты раскрасил(а) красным карандашом и почему? (Машины в верхнем ряду, потому что они едут направо.) Далее аналогично.

 Обведи бабочек, которые летят вверх, зеленым карандашом, а тех, что летят вниз, — оранжевым.



? Каких бабочек ты обвел(а) зеленым карандашом? (Тех, что летят вверх.)
А оранжевым? (Тех, что летят вниз.)

НОВЫЙ САЙТ — НОВЫЕ ВОЗМОЖНОСТИ!

Интернет-магазин
www.sfera-book.ru



НА НОВОМ САЙТЕ



Весь ассортимент издательства



Обновленный рубрикатор



Возможность купить оптом и в розницу



Разнообразные фильтры для отбора



Поля для отзывов и предложений



Новый дизайн и многое другое

ЗАХОДИТЕ, ИЗУЧАЙТЕ, ПОКУПАЙТЕ!

Мы вас ждем на www.sfera-book.ru

0+

ЕАЭС

ISBN 978-5-9949-1173-0




9 785994 911730



Е.В. Колесникова






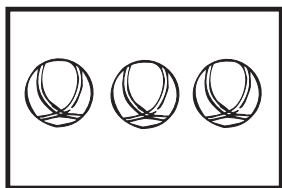
ДИАГНОСТИКА МАТЕМАТИЧЕСКИХ СПОСОБНОСТЕЙ ДЕТЕЙ 6–7 ЛЕТ



Соответствует
ФГОС ДО



Способность к обобщению математического материала
Количество и счет

Соедини прямоугольники с одинаковым количеством предметов.



Скажи, какие прямоугольники ты соединил?

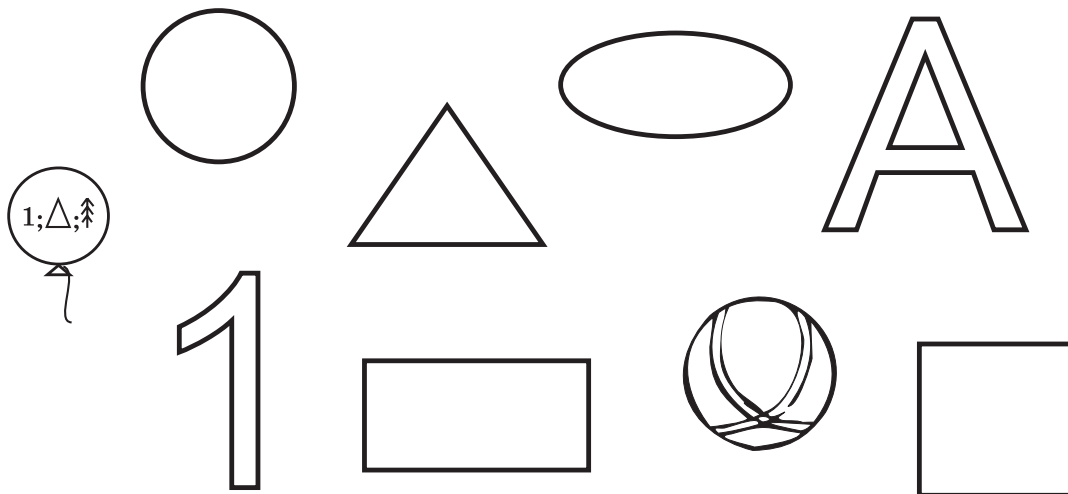
Обведи птичек, которых больше всего.



Каких птичек ты обвел? Почему?

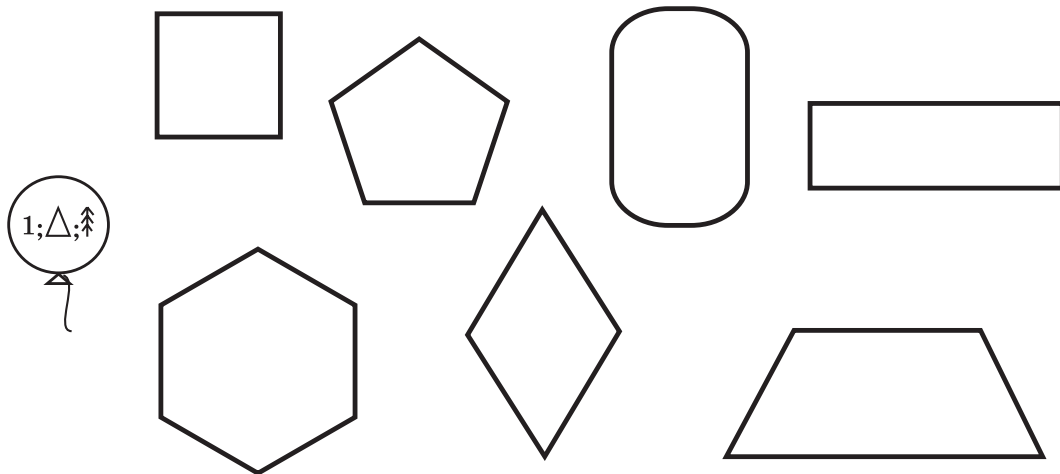
Способность к обобщению математического материала
Геометрические фигуры

Закрась только геометрические фигуры.



Назови геометрические фигуры, которые ты закрасил.

Закрась только четырехугольники.



Назови геометрические фигуры, которые ты закрасил.

Обведи дома одинаковой высоты.



Сколько домов ты обвел и почему?



Соедини деревья, у которых стволы одинаковой толщины.



Какие деревья ты соединил и почему?

Способность к обобщению математического материала
Ориентировка во времени

Раскрась картинки, на которых нарисовано утро.



Сколько картинок ты раскрасил и почему?