

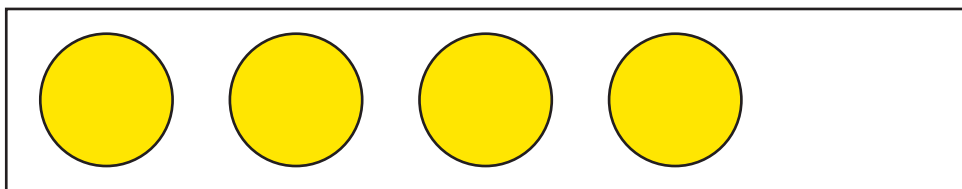



**ЗАДАЧИ.** Закреплять умение считать предметы в пределах пяти; сравнивать две группы предметов, добавлять к меньшей группе недостающий предмет и устанавливать равенство между ними. Упражнять в написании *цифры 4*. Учить различать понятия *быстро — медленно*, ознакомить с пространственными отношениями *далеко — близко*.



 Помоги Ане нарисовать в нижнем прямоугольнике на один кружок больше, чем в верхнем.



 Сколько ты нарисовал(а) кружков? (*Пять, потому что в верхнем прямоугольнике четыре кружка.*)

 Сделай так, чтобы кружков в прямоугольниках стало поровну — по пять.

 Что ты сделал(а)? (*Нарисовал(а) один кружок в верхнем прямоугольнике.*)



 Помоги Ване обвести по точкам цифру 4 в каждом окошке.

