



**Е.В. Колесникова**

# **Я РЕШАЮ АРИФМЕТИЧЕСКИЕ ЗАДАЧИ**

**Математика  
для детей 5–7 лет**



## ЗАДАЧИ НА ОТНОШЕНИЕ «БОЛЬШЕ НА...» ПО ДЕЙСТВИЯМ РЕБЁНКА

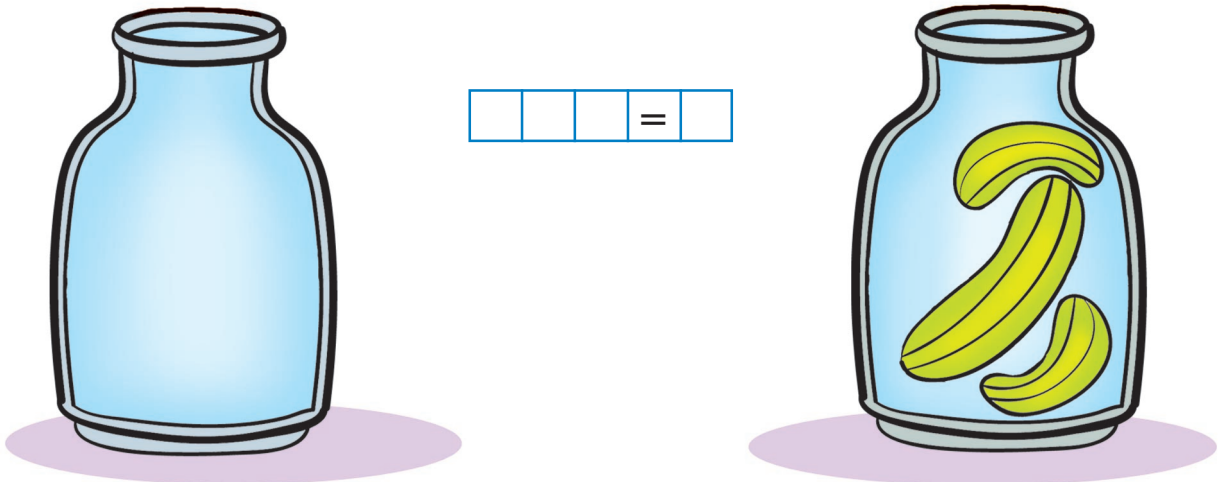
5. Нарисуй на нижней полке на две пирамидки больше, чем стоит на верхней полке.



			=	
--	--	--	---	--

Скажи, что ты сделал? Задай вопрос к своим действиям и ответь на него. Запиши решение задачи соответствующим математическим выражением и прочитай запись.

6. Нарисуй в банке слева на два огурца больше, чем в банке справа.




Скажи, что ты сделал? Задай вопрос к своим действиям и ответь на него. Запиши решение задачи соответствующим математическим выражением и прочитай запись.

7. Нарисуй в вазе справа на два цветка больше, чем в вазе слева.





			=	
--	--	--	---	--



Скажи, что ты сделал? Задай вопрос к своим действиям и ответь на него. Запиши решение задачи соответствующим математическим выражением и прочитай запись.

8. Нарисуй в нижнем прямоугольнике на два мяча больше, чем в верхнем прямоугольнике.



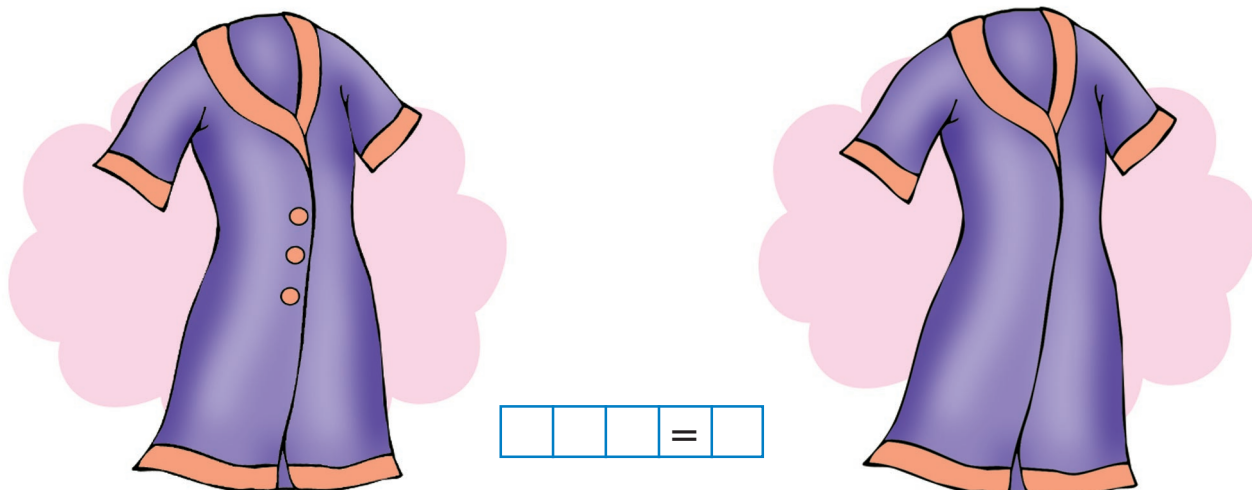
			=	
--	--	--	---	--

Скажи, что ты сделал? Задай вопрос к своим действиям. Ответь на него. Запиши решение задачи соответствующим математическим выражением и прочитай запись.



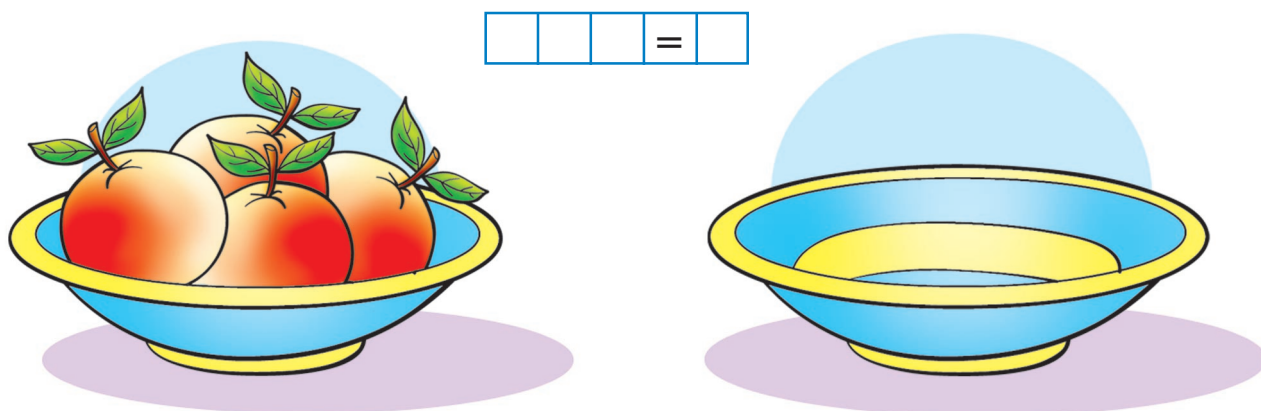
## ЗАДАЧИ НА ОТНОШЕНИЕ «МЕНЬШЕ НА...» ПО ДЕЙСТВИЯМ РЕБЁНКА

9. Нарисуй на халате справа на одну пуговицу меньше, чем на халате слева.



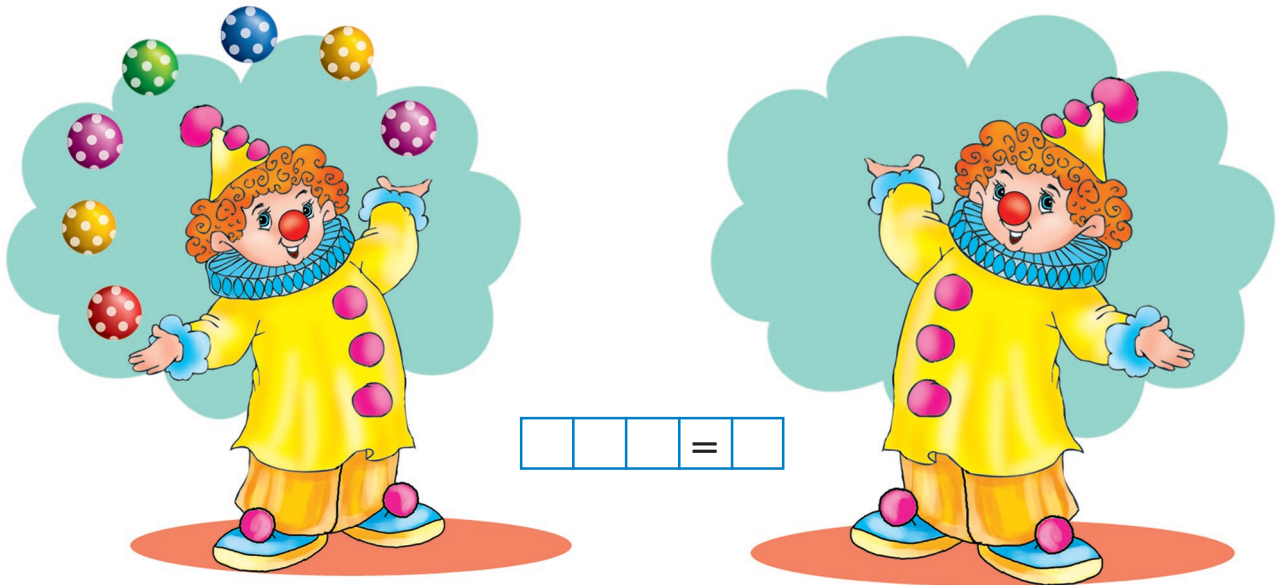
Скажи, что ты сделал? Задай вопрос к своим действиям. Ответь на него. Запиши решение задачи соответствующим математическим выражением и прочитай запись.

10. Нарисуй на тарелке справа на три яблока меньше, чем на тарелке слева.



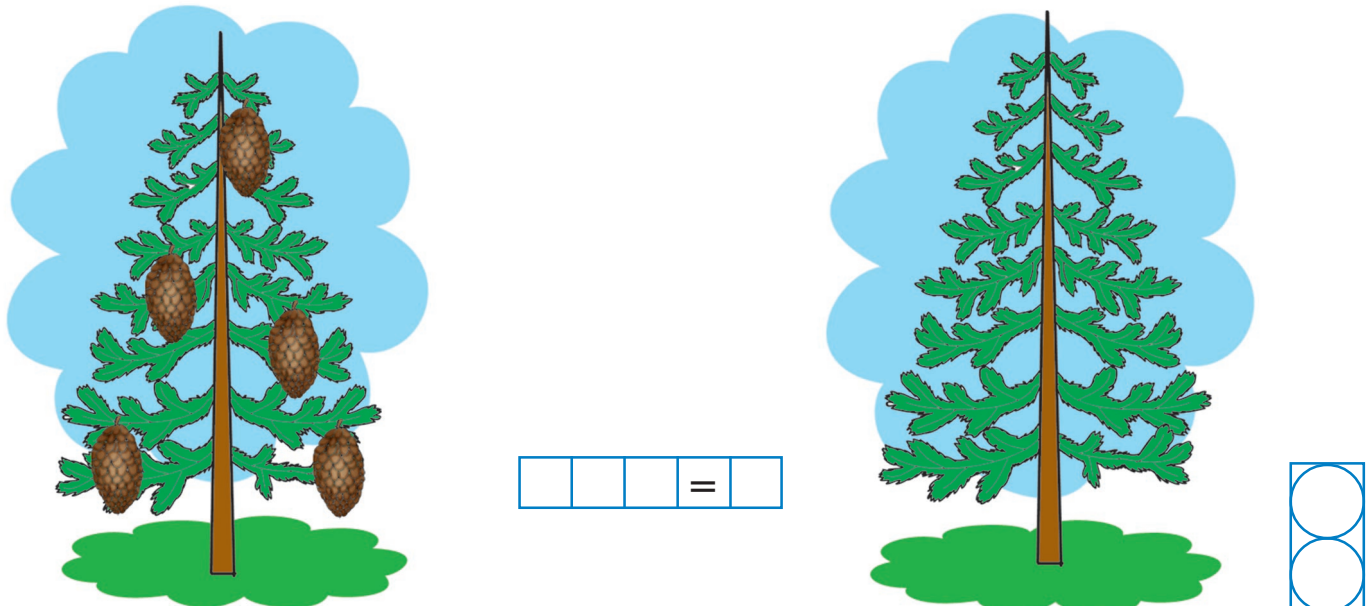
Скажи, что ты сделал? Задай вопрос к своим действиям. Ответь на него. Запиши решение задачи соответствующим математическим выражением и прочитай запись.

11. Клоуну справа нарисуй на три мячика меньше, чем у клоуна слева.



Скажи, что ты сделал? Задай вопрос к своим действиям. Ответь на него. Запиши решение задачи соответствующим математическим выражением и прочитай запись.

12. На ёлке справа нарисуй на три шишки меньше, чем на ёлке слева.



Скажи, что ты сделал? Задай вопрос к своим действиям. Ответь на него. Запиши решение задачи соответствующим математическим выражением и прочитай запись.