

УДК 373
ББК 74.100.5
К60

Колесникова Е.В.

К60 Математические прописи для детей 5—7 лет. — М.: ТЦ Сфера, 2022. — 32 с. (Математические ступеньки).

ISBN 978-5-9949-2732-8

Математические прописи входят в дополнительный УМК авторской программы «Математические ступеньки». Материалы, предложенные в данной тетради, помогут ребёнку закрепить полученные ранее знания, умения и навыки, а также применить их для выполнения более сложных упражнений: написания цифр и математических знаков в тетради в клетку, рисования символических изображений предметов и т.д. В процессе выполнения заданий весёлого Колобка и его друзей-карандашей у детей развиваются внимание, память, мышление — качества, необходимые для обучения в школе.

Пособие рекомендуется широкому кругу специалистов, работающих в ДОО, может быть использовано родителями и гувернёрами.

© ООО «ТЦ Сфера», оформление, иллюстрации, 2020
© Колесникова Е.В., текст, 2020

Учебное издание

Колесникова Елена Владимировна
МАТЕМАТИЧЕСКИЕ ПРОПИСИ ДЛЯ ДЕТЕЙ 5—7 ЛЕТ

Главный редактор Т.В. Цветкова
Редактор А.А. Пушкина
Художественный редактор М.А. Владимирская
Художник Е.Н. Федорченко
Корректор Л.Б. Успенская
Компьютерная верстка Е.Ю. Бартковская

Декларация о соответствии ЕАЭС № RU Д-РУ.АД53.В.09876 с 05.07.2018 по 04.07.2023

Подписано в печать 12.08.21. Формат 84x108 $\frac{1}{16}$.
Гарнитура Школьная. Печать офсетная. Усл. печ. л. 3,36. Тираж 10 000 экз.
Заказ №

Отпечатано в типографии ООО «Первый полиграфический комбинат».
143405, Московская область,
г. Красногорск, Ильинское шоссе, 4 км.

Издательство «Творческий Центр СФЕРА»

Адрес: 129226, Москва, ул. Сельскохозяйственная, д. 18, к. 3
Тел.: (495) 656-72-05, 656-75-05
E-mail: sfera@tc-sfera.ru
Сайты: www.tc-sfera.ru, www.sfera-podpiska.ru
Интернет-магазин: www.sfera-book.ru



ISBN 978-5-9949-2732-8



9 785994 927328




Соответствует
ФГОС ДО

Е.В. Колесникова


МАТЕМАТИЧЕСКИЕ ПРОПИСИ


для детей **5–7** лет



ДАВАЙ ЗНАКОМИТЬСЯ

Это Колобок и его друзья — цветные карандаши. С ними ты познакомился в предыдущей книге. Они предложат тебе новые задания, проверят, не забыл ли ты, чему научился ранее, познакомят с новыми цифрами, математическими знаками, геометрическими фигурами.



 Обведи цифры по точкам и соедини каждую с карточкой, на которой изображено соответствующее количество предметов.





1

2

3

4

5




? С какой карточкой соединил(а) цифру 5? (С карточкой, на которой нарисовано 5 мячей.)








! Задайте аналогичные вопросы по остальным карточкам.



РИСУЕМ ОКРУГЛЫЕ ЛИНИИ. ЗАКРАШИВАЕМ



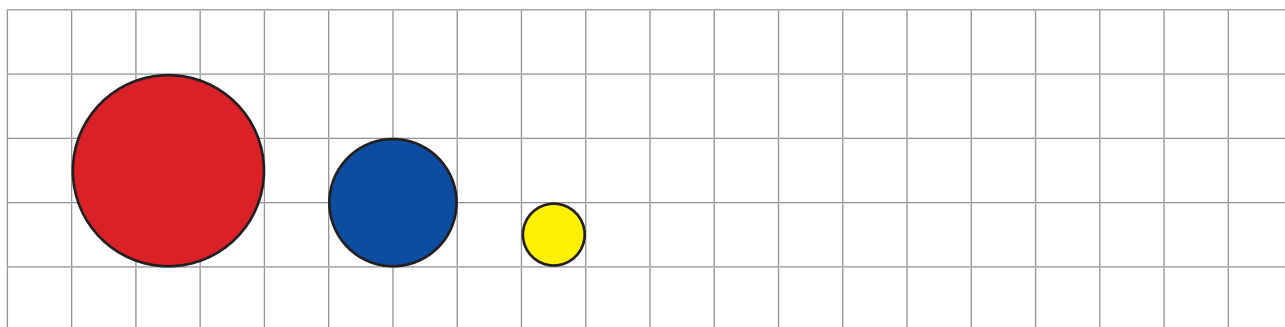
 Нарисуй в квадрате около каждого карандаша столько шариков, сколько обозначает цифра рядом с ним. Закрась шарики нужным цветом.



? Сколько ты нарисовал(а) жёлтых шариков и почему? (*Четыре, потому что рядом с жёлтым карандашом написана цифра 4.*)


! Задайте аналогичные вопросы по остальным картинкам.


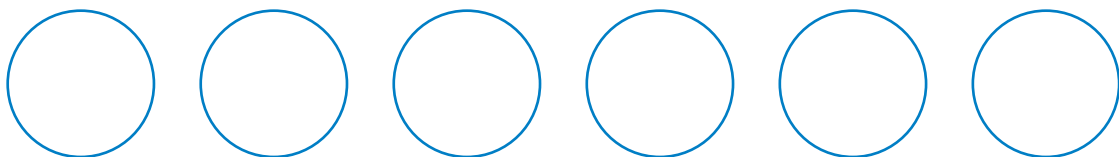

 Помоги Колобку нарисовать такие же кружки.



РАЗВИВАЕМ ВНИМАНИЕ. ЗАКРАШИВАЕМ




 Закрась столько кружков, сколько найдёшь отличий между двумя картинками.



? Сколько кружков ты раскрасил(а) и почему? (Пять, потому что между картинками пять отличий.) Назови их. (На верхней картинке четыре кубика, на нижней — три; на верхней картинке у кораблика два паруса, на нижней — один; на верхней картинке три мяча, на нижней — два; на верхней картинке две пирамидки, на нижней — одна; на верхней картинке у паровоза есть труба, на нижней её нет.)


ЗНАКОМИМСЯ С ЦИФРОЙ 6

Послушай! Колобок знает стихотворение про цифру 6.



Рисуем сверху мы крючок
И плавно вниз рисуем круг.
Так получилась цифра шесть,
Ты молодец, мой юный друг!
И. Блюмкин


 Обведи цифры по точкам.



 Раскрась цифры.



★ Отгадай загадку и обведи картинку-отгадку.



Чёрен, да не ворон,
Рогат, да не бык,
Шесть ног без копыт.



? Кого ты обвел(а) и почему? (Жука, потому что у него шесть ног без копыт, он чёрен и рогат.)