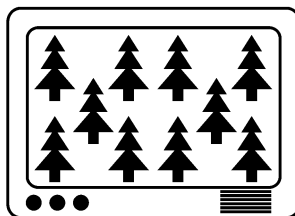
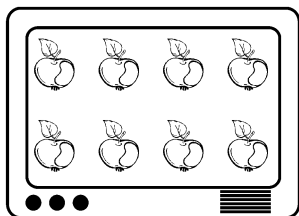
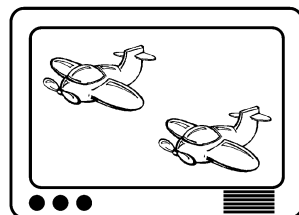
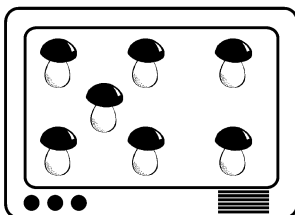

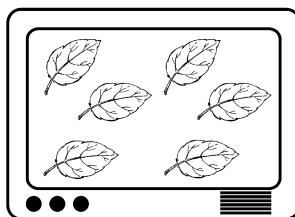

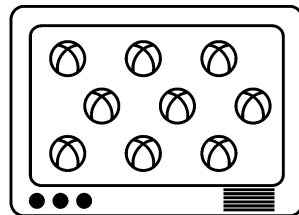

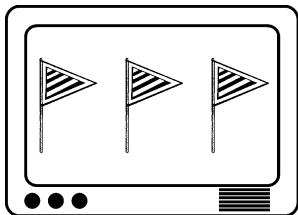


Соотнесение цифры с количеством предметов

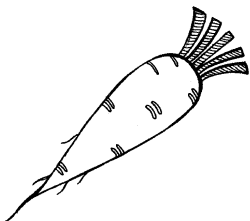
Соедини каждую цифру с тем телевизором, на экране которого столько же предметов.

1, 2, 3, 4, 5, 6, 7, 8, 9, 10.

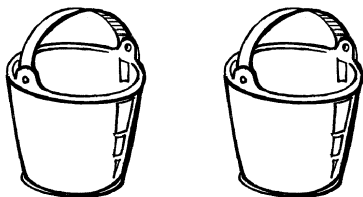


Образование чисел до 5 путем прибавления единицы

Дорисуй в каждом ряду столько предметов, чтобы их количество равнялось цифре, которая написана справа.




2



3




4




5

Образование чисел от 6 до 10 путем прибавления единицы

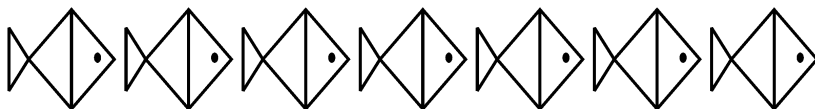
Дорисуй в каждом ряду столько предметов, чтобы их количество равнялось цифре, которая написана справа.



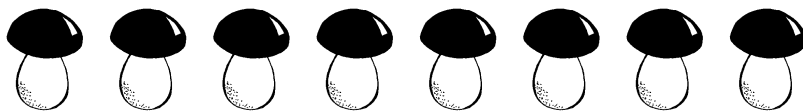
6



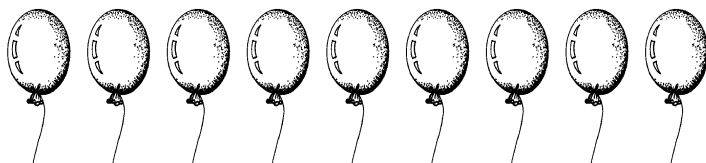
7



8



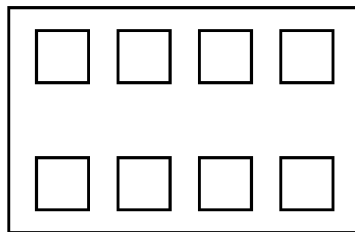

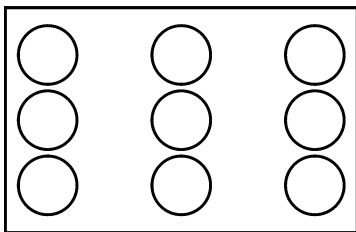
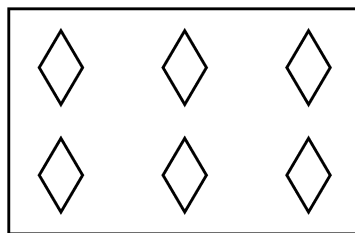

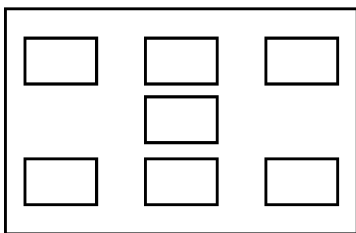
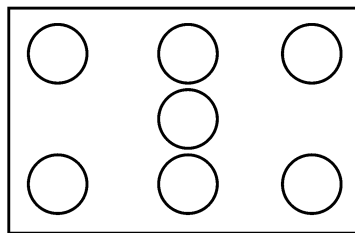

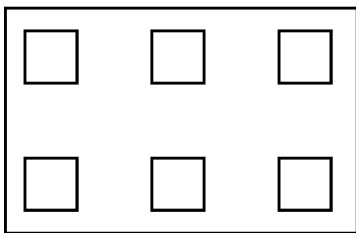
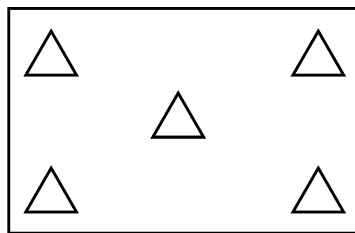

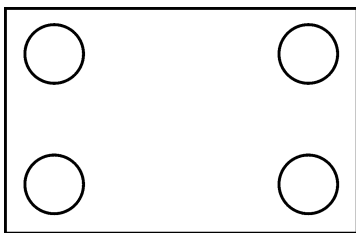
9



10


Сравнение смежных чисел

Напиши знаки «больше» или «меньше» в кружках.
Прочитай запись.



Разложение числа 3 на два меньших

Сколько шариков на картинке? Раскрась один шарик красным карандашом, а два других синим.
Как получилось число три?



Сколько рыбок на картинке? Закрась двух рыбок оранжевым карандашом, а оставшуюся красным.
Как получилось число три?

