




№1

Проведи линию так, чтобы все предметы, выполняющие транспортную функцию, оказались обведёнными ею, а другие предметы — нет.



Как ты провел(а) линию и почему?

№2

Посмотри внимательно. Что задумал Данила-мастер?
Соедини точки по порядку.



8 ●

2 ●

● 4

7 ●
3 ●



Что получилось, когда ты соединил(а) точки по порядку?